



**Konkurs Wiedzy o Społeczeństwie
dla uczniów szkół podstawowych województwa zachodniopomorskiego
w roku szkolnym 2020/2021**

Etap rejonowy

Drogi Uczniu!

Przed przystąpieniem do rozwiązywania testu prosimy, żebyś zapoznał się z poniższymi wskazówkami:

1. **Zakoduj swoje dane na karcie odpowiedzi** zgodnie z poleceniem komisji konkursowej;
2. Masz do rozwiązania **45 zadań** zamkniętych, za rozwiązanie których możesz otrzymać maksymalnie **45 punktów**;
3. W zadaniach podane są 4 odpowiedzi, z których **tylko jedna jest poprawna**;
4. Odpowiedzi udzielaj tylko na załączonej **karcie odpowiedzi**;
5. Jeżeli pomylisz się, błędne oznaczenie otocz kółkiem i zaznacz nową, poprawną odpowiedź;
6. Jeśli zaznaczysz więcej niż jedną odpowiedź bez wskazania, która jest prawidłowa - to żadna odpowiedź nie będzie uznana;
7. Nie używaj ołówka, gumki ani korektora na karcie odpowiedzi;
8. Uważnie czytaj wszystkie polecenia;
9. Po zakończeniu pracy sprawdź, czy udzieliłeś wszystkich odpowiedzi;
10. Czas rozwiązywania zadań **90 minut**.

Powodzenia!

Zad. 1


Chęć tworzenia należy do potrzeb:

- a. przynależności,
- b. samorealizacji,
- c. uznania,
- d. bezpieczeństwa.

Zad. 2

Na grafice obok przedstawiona jest grupa:

- a. formalna, wtórna, otwarta,
- b. nieformalna, wtórna, zamknięta,
- c. formalna, pierwotna, otwarta
- d. nieformalna, wtórna, zamknięta.



www.vecteezy.com

Zad. 3

Zjawisko to oznacza zmianę zachowania lub opinii jednostki zgodnie z naciskiem grupy; u podłoża jego leży potrzeba akceptacji ze strony innych ludzi oraz unikanie kary w postaci odrzucenia ze strony grupy.

<https://encyklopedia.pwn.pl/>

Powyższy tekst dotyczy:

- a. nonkonformizmu,
- b. empatii,
- c. asertywności,
- d. konformizmu.

Zad. 4

„Jestem obywatelem świata”, taka miała być odpowiedź Diogenesa na pytanie, gdzie jest jego kraj ojczysty.

Postawa, opisana powyżej to:

- a. patriotyzm,
- b. szowinizm,
- c. kosmopolityzm,
- d. ksenofobia.

Zad. 5

Szczególny tryb podejmowania decyzji (uchwał) przez ich uzgodnienie za pomocą konsultacji i rokowań bez uciekania się do głosowania to:

- a. wola większości,
- b. konwergencja,
- c. decyzja lidera,
- d. konsensus.

Zad. 6

Sytuacja ukazana na zdjęciu obok przedstawia socjalizację:

- a. pierwotną,
- b. odwróconą,
- c. wtórną,
- d. żadna z powyższych odpowiedzi.



<https://rampages.us/>

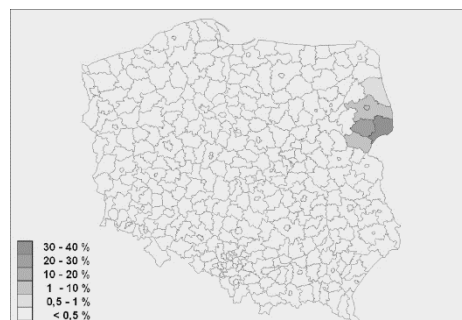
Zad. 7

Wedle danych Narodowego Spisu Powszechnego Ludności i Mieszkań z 2002 r. mniejszość ta stanowiła w powiecie hajnowskim - 39,1% mieszkańców, bielskim - 19,80% mieszkańców, siemiatyckim - 3,46% mieszkańców, białostockim - 3,2% mieszkańców i w Białymstoku (mieście na prawach powiatu) - 2,53% mieszkańców. Wedle danych Narodowego Spisu Powszechnego Ludności i Mieszkań z 2011 r. na terenie 9 gmin województwa podlaskiego przedstawiciele tej mniejszości stanowili ponad 20% mieszkańców gminy, w tym w 4 - ponad 50%.

<http://www.gov.pl>

Na podstawie zamieszczonego źródła wskaż o jaką mniejszość chodzi:

- a. białoruską,
- b. ormiańską,
- c. litewskiej,
- d. rosyjską.



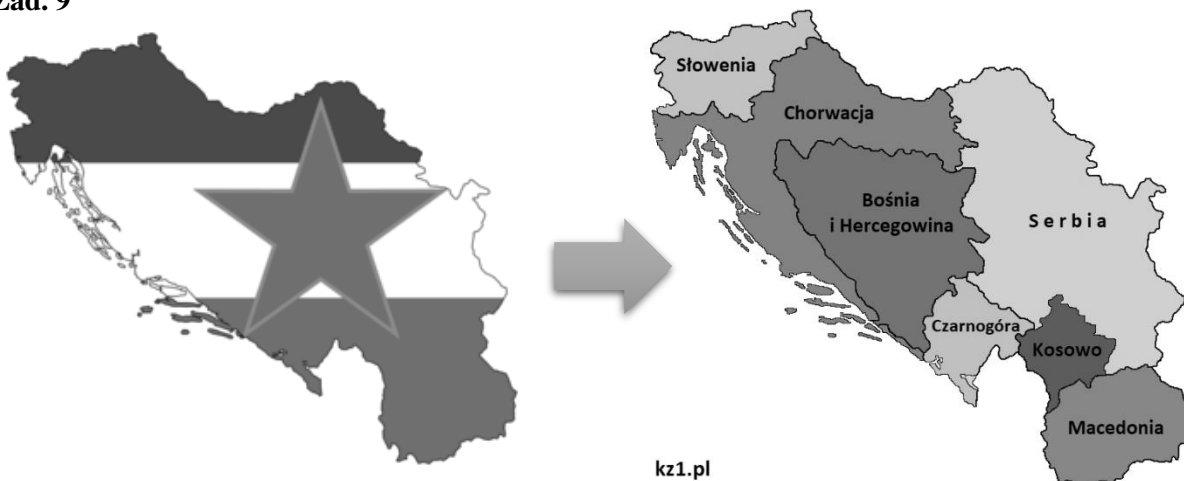
Zad. 8

Awans osoby w danym zakładzie pracy to przykład ruchliwości:



- a. poziomej,
- b. pionowej,
- c. wewnątrzpokoleniowej,
- d. międzypokoleniowej.

Zad. 9



Grafika powyżej przedstawia proces:

- a. integracji,
- b. depopulacji,
- c. centralizacji,
- d. dezintegracji.

Zad. 10

Teoria genezy państwa przedstawiona na grafice obok to:

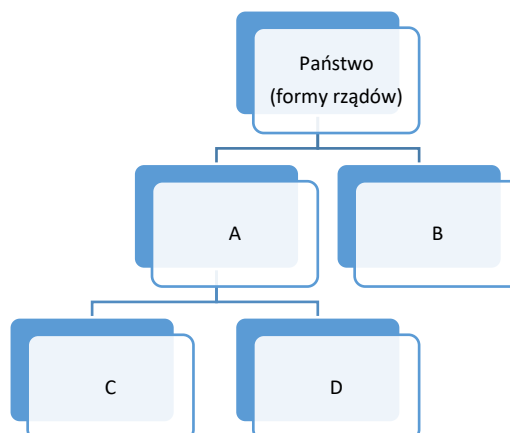
- a. teoria teistyczna,
- b. teoria przemocy i podboju,
- c. teoria umowy społecznej,
- d. teoria patrymonialna.



Zad. 11

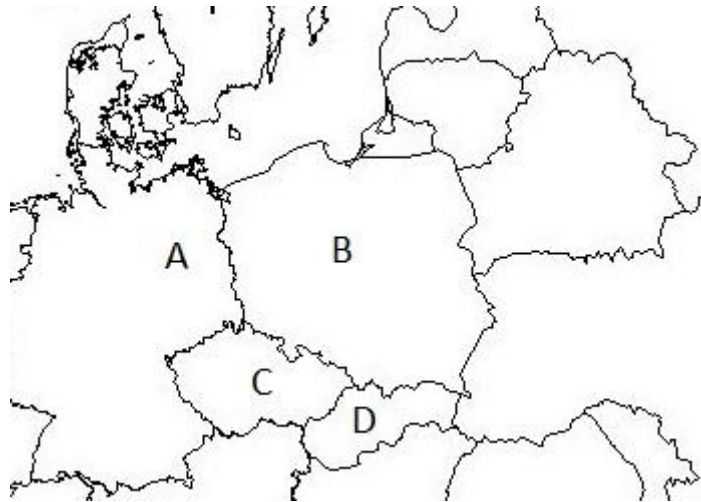
Prawidłowe uzupełnienie schematu obok to:

- a. A - republika, B – monarchia, C – absolutna, D - ograniczona
- b. A – złożone, B – unitarne, C – federacja, D - konfederacja
- c. A – monarchia, B – republika, C – absolutna, D - ograniczona
- d. A – unitarne, B – złożone, C – federacja, D - konfederacja



Zad. 12

Na podstawie mapy wskaż państwo będące federacją.



- a. B,
- b. A,
- c. D,
- d. C.

Zad. 13

Zasada ta ma zapobiegać przejęciu pełni kontroli nad państwem jednemu ośrodkowi. Sformułowano ją w epoce Oświecenia – w XVII i XVIII wieku. Obecnie to najpowszechniejszy na świecie system sprawowania władzy. Znalazła się ona m.in. w konstytucji Stanów Zjednoczonych, a także polskiej Konstytucji 3 Maja.

<https://businessinsider.com.pl/>

Zasada opisana powyżej to:

- a. trójpodziału władzy,
- b. zasada demokratycznego państwa prawa,
- c. suwerenności narodu,
- d. unitarnej formy państwa.

Zad. 14

Referendum to przykład demokracji:

- a. pośredniej,
- b. bezpośredniej,
- c. przedstawicielskiej,
- d. ludowej.

Zad. 15

Obowiązującym obecnie w Polsce cenzusem wyborczym jest cenzus:

- a. wykształcenia,
- b. płci,
- c. wieku,
- d. majątkowy.

Zad. 16

Jest to forma aktywności i zdolności do samorealizacji oraz określenia i osiągnięcia wyznaczonych celów, bez impulsu ze strony władzy państwowej; to świadome, autonomiczne uczestnictwo obywateli w życiu publicznym. Jest to więc zespół idei oraz zespół prawnych form samoorganizacji społecznej w celu ich realizacji.

<http://eregion.wzp.pl/>

Powyższy fragment dotyczy:

- a. anarchii,
- b. obywatelskiego nieposłuszeństwa,
- c. demokratycznego państwa prawa,
- d. społeczeństwa obywatelskiego.

Zad. 17

W jednym z wydziałów tego urzędu można załatwić wszystkie sprawy związane z legalizacją pobytu cudzoziemców na terenie RP, sprawy pobytu obywateli UE i członków ich rodzin, przedłużania wiz, rejestracji zaproszeń oraz udzielania zezwoleń na wykonywanie pracy przez cudzoziemców.

<https://otwarty.krakow.pl/>

Urząd opisany powyżej to:

- a. urząd marszałkowski,
- b. urząd wojewódzki,
- c. urząd gminy,
- d. starostwo powiatowe.

Zad. 18**Rozdział I
RZECZPOSPOLITA****Art. 1.**

Rzeczpospolita Polska jest dobrem wspólnym wszystkich obywateli.

Konstytucyjna zasada opisana powyżej to:

- a. zasada suwerenności narodu,
- b. zasada pluralizmu politycznego,
- c. zasada unitarnej formy państwa,
- d. zasada republikańskiej formy państwa.

Zad. 19

Liga Obrony Kraju i Ochotnicza Straż Pożarna to przykłady:

- a. stowarzyszeń,
- b. fundacji,
- c. związków zawodowych,
- d. żadnego ze wskazanych.

Zad. 20

Do obowiązków obywatela polskiego nie należy obowiązek:

- a. dbania o stan środowiska naturalnego,
- b. przestrzegania prawa,
- c. partycypacji wyborczej,
- d. ponoszenia ciężarów i świadczeń publicznych.

Zad. 21



Przedstawione powyżej grafiki to loga:

- a. stowarzyszeń,
- b. ośrodków pomocy społecznej,
- c. fundacji,
- d. związków zawodowych.

Zad. 22

Prawo narodów do samostanowienia to prawo:

- a. I generacji praw człowieka,
- b. II generacji praw człowieka,
- c. III generacji praw człowieka,
- d. Żadna z powyższych odpowiedzi.

Zad. 23

Który z wymienionych poniżej dokumentów nie pasuje do pozostałych pod względem ich skutków prawnych:

- a. konwencja,
- b. deklaracja,
- c. pakt,
- d. traktat.

Zad. 24

Rzecznika Praw Obywatelskich w Polsce wybiera/powołuje:

- a. Prezydent RP,
- b. Sejm za zgodą Senatu,
- c. Zgromadzenie Narodowe,
- d. Rada Ministrów.

Zad. 25

Europejski Trybunał Praw Człowieka w Strasburgu rozpatruje skargi obywateli 47 państw członkowskich:

- a. Rady Europy,
- b. Organizacji Narodów Zjednoczonych,
- c. Unii Europejskiej,
- d. żadnej z wymienionych.

Zad. 26

Na daną propozycję musi przystać określona (ułamkowo bądź procentowo) liczba głosujących. Zawsze jest ona większa niż połowa. W Polsce wykorzystuje się głównie dwa rodzaje tej większości: 2/3 lub 3/5.

<http://prawo.gazetaprawna.pl>

Przytoczony opis charakteryzuje większość:

- a. zwykłą,
- b. bezwzględną,
- c. względną,
- d. kwalifikowaną.

Zad. 27

Rozstrzygnij, czy po przegłosowaniu przez Sejm „weta” Prezydenta RP wobec ustawy, może on ją następnie oddać do oceny Trybunałowi Konstytucyjnemu:

- a. nie,
- b. tak, zawsze,
- c. tak, ale w szczególnych przypadkach,
- d. tak, jednak nie prędzej, niż 30 dni po głosowaniu.

Zad. 28

Ratyfikacji umowy międzynarodowej dokonuje:

- a. Sejm,
- b. Prezes Rady Ministrów,
- c. Zgromadzenie Narodowe,
- d. Prezydent RP.

Zad. 29

Do zadań Zgromadzenia Narodowego nie należy:

- a. wysłuchanie orędzia Prezydenta RP,
- b. stwierdzenie niezdolności Prezydenta do sprawowania urzędu ze względu na stan zdrowia,
- c. wysłuchanie przysięgi wybranego Prezydenta RP,
- d. wysłuchanie przemówień wybitnych osobistości międzynarodowej polityki.

Zad. 30

Posel może być jednocześnie:

- a. ministrem,
- b. sędzią,
- c. żołnierzem w służbie czynnej,
- d. prokuratorem.

Zad. 31

Najwyższą instancją w strukturze sądownictwa administracyjnego jest:

- a. Sąd Najwyższy,
- b. Naczelny Sąd Administracyjny,
- c. Sąd Apelacyjny,
- d. żadna z powyższych odpowiedzi.

Zad. 32

III generacja praw człowieka obejmuje:

- a. prawa gospodarcze,
- b. prawa osobiste,
- c. prawa solidarnościowe,
- d. prawa socjalne.

Zad. 33

W systemie uniwersalnym/światowym podstawowe dokumenty ochrony praw człowieka zostały wydane przez:

- a. Unię Europejską,
- b. Radę Europy,
- c. Organizację Narodów Zjednoczonych,
- d. Organizację Bezpieczeństwa i Współpracy w Europie.

Zad. 34

Francuski polityk, mąż stanu, dwukrotny premier Francji, reformatorski minister finansów oraz minister spraw zagranicznych, będący jedną z kluczowych postaci w kształtowaniu powojennej Europy i stosunków transatlantyckich, uznawany za jednego z ojców Unii Europejskiej, Rady Europy i NATO.

www.wikiedia.pl



Powyższy fragment biografii dotyczy:

- a. Jeana Moneta,
- b. Roberta Schumana,
- c. Konrada Adenauera,
- d. Winstona Churchilla.

Zad. 35

Jest politycznie niezależnym organem wykonawczym UE. Jako jedyna jest odpowiedzialna za opracowywanie wniosków dotyczących nowych aktów prawa unijnego. Ponadto wdraża decyzje Parlamentu Europejskiego i Rady UE. Jest jedyną instytucją UE, która przedkłada projekty aktów prawnych Parlamentowi Europejskiemu i Radzie.

Powyższy tekst jest opisem:

- a. Komisji Europejskiej,
- b. Rady Unii Europejskiej,
- c. Rady Europejskiej,
- d. Rady Europy.

Zad. 36

Wskaż poprawną chronologiczną kolejność wybranych Prezydentów RP :

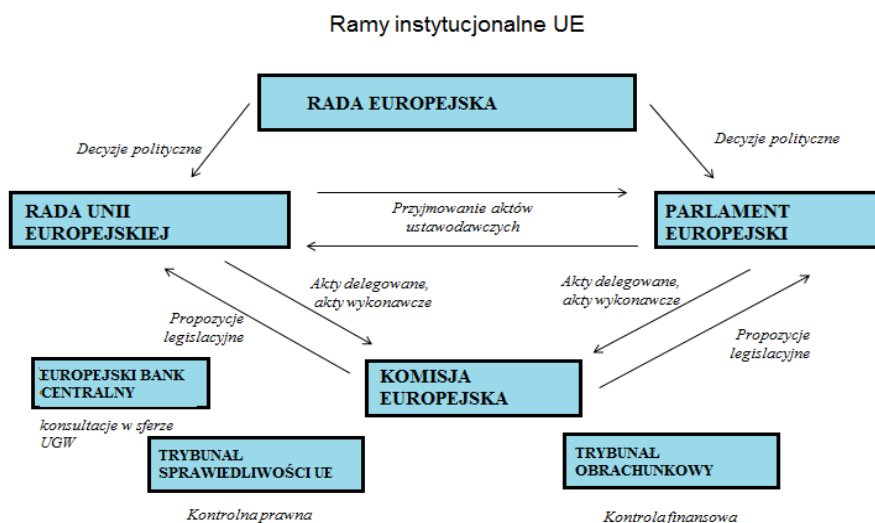
- a. A. Kwaśniewski, B. Komorowski, L. Kaczyński,
- b. B. Komorowski, A. Kwaśniewski, L. Kaczyński,
- c. L. Kaczyński, A. Kwaśniewski, B. Komorowski,
- d. A. Kwaśniewski, L. Kaczyński, B. Komorowski.

Zad. 37

Obywatelstwo Unii Europejskiej i wspólną walutę Euro wprowadził:

- a. Traktat z Maastricht,
- b. Traktat Amsterdamski,
- c. Traktat Lizboński,
- d. żadna z odpowiedzi nie jest prawidłowa.

Zad. 38



Na podstawie powyższego wykresu wskaż dwie główne instytucje UE, które majądecydujący wpływ na proces legislacyjny:

- Rada Europejska i Komisja Europejska,
- Rada Europejska i Parlament Europejski,
- Parlament Europejski i Komisja Europejska,
- Rada Unii Europejskiej i Parlament Europejski.

Zad. 39

Przeanalizuj kolejność traktatów wspólnotowych i wskaż prawidłowe umieszczenie Traktatu Amsterdamskiego.



- między Traktatem Paryskim, a Traktatami Rzymskimi,
- między Traktatami Rzymskimi, a Traktatem z Maastricht,
- między Traktatem z Maastricht, a Traktatem Nicejskim,
- między Traktatem Nicejskim, a Traktatem Lizbońskim.

Zad. 40

Wskaż, czyją kompetencją jest kontrolowanie wykonywania przez organy samorządu terytorialnego zadań z zakresu administracji rządowej.

- starosty,
- wojewody,
- marszałka województwa,
- zarządu województwa.

Zad. 41

Miasto Szczecin jest powiatem grodzkim. Wskaż, kogo podczas wyborów samorządowych mieszkańiec Szczecina NIE wybiera.

- a. prezydenta miasta,
- b. starosty,
- c. radnych Sejmiku Województwa,
- d. radnych Rady Miasta.

Zad. 42

W jakim państwie znajduje się Sekretariat Parlamentu Europejskiego?

- a. Francji,
- b. Belgii,
- c. Luksemburgu,
- d. żadna odpowiedź nie jest prawidłowa.

Zad. 43

Sądy i Trybunały w Polsce wydają wyroki w imieniu:

- a. Narodu,
- b. obywateli,
- c. wymiaru sprawiedliwości,
- d. Rzeczypospolitej Polskiej.

Zad. 44

Przewodniczącym Trybunału Stanu jest:

- a. Pierwszy Prezes Sądu Najwyższego,
- b. Minister Sprawiedliwości,
- c. najstarszy stażem sędzia Trybunału Stanu,
- d. sędzia wybrany przez Kolegium Sędziów Trybunału Stanu.

Zad. 45

W sytuacji, gdy ustawowy skład rady liczy 15 radnych, większość bezwzględną stanowi:

- a. 2/3 radnych,
- b. 3/5 radnych,
- c. 7 radnych,
- d. 8 radnych.